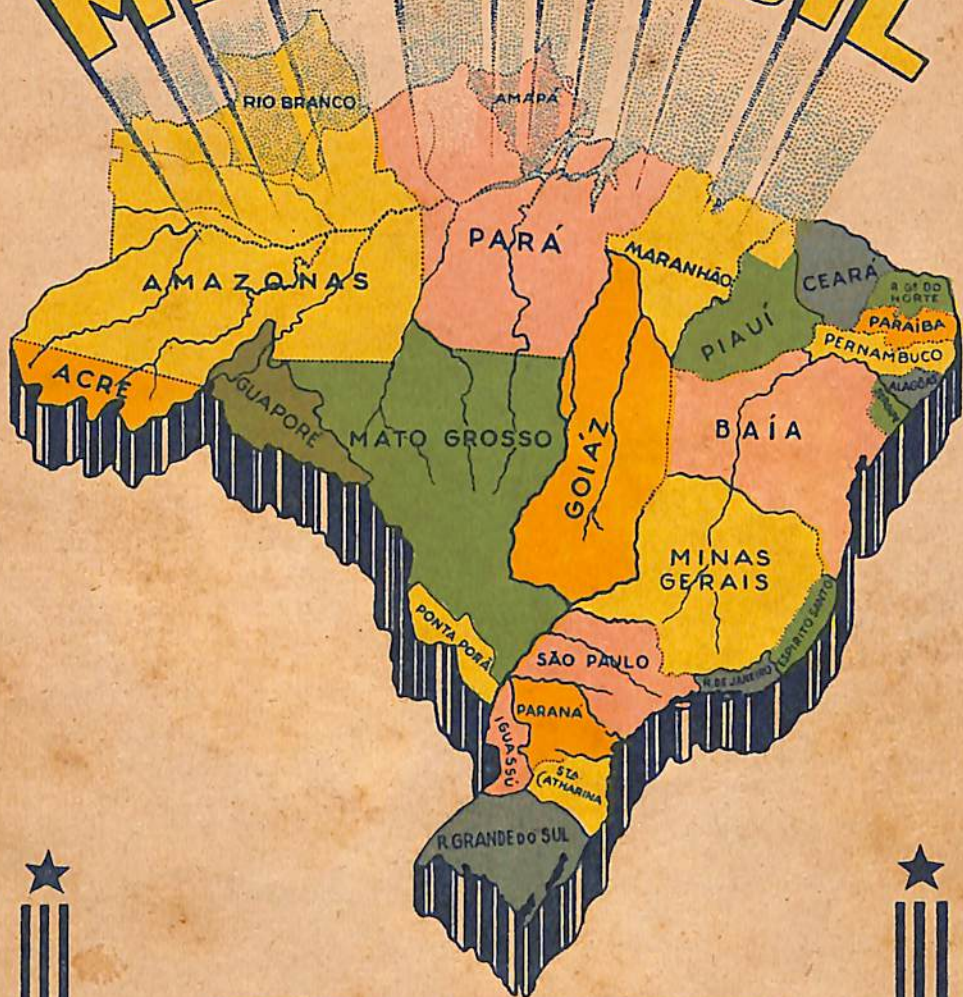



320

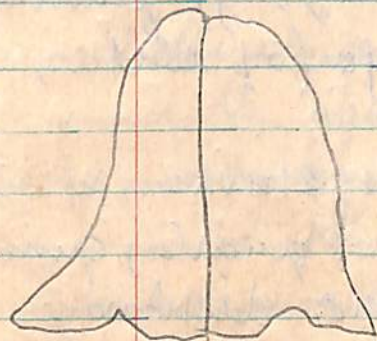


# MEU BRASIL



Maria Elida Dickel  
Av. General  
Rio







Dia 25-4-69.

### Exercícios

1) Escrever numa lista os nomes das coisas da sala de jantar.

Mesa, banco, cadeiras, luz, guarda-lousa, pratos, faca, garfo, colher, bacias.

2) Escrever ordenadamente, assim:  
primeiro segundo, terceiro, quarto, quinto, sexto, sétimo, oitavo, nono, décimo, décimo primeiro, décimo segundo, décimo terceiro, décimo quarto, décimo quinto, décimo sexto, décimo sétimo, décimo oitavo, décimo nono, vigésimo, vigésimo primeira, vigésimo segunda, vigésimo terceira, vigésimo quarta, vigésimo quinta, vigésimo sexta, vigésimo sétimo, vigésimo oitavo, vigésimo nono, trigésimo.

Contar a história da água.

A noite come estreme mandão  
contar mas a história da água, que

desejavam ver o céu. A história era esta:

A água do lago, querinha, olhava o céu e pensava: que lindo é o céu azul!

A água do rio, que corria sem parar, olhava o céu azul!

A água do mar, cheia de espuma, também queria ver o céu.

O sol parecia que queria a água, e disse espere um pouquinho.

4 O problema é difícil. É difficilissimo  
O leão é feroz. É ferocissimo  
O pai é muito bom. É bonissimo  
Pedro é muito amigo. É amigissimo  
Paula é muito baixo. É baixissimo  
A conta é muito fácil. É facilissimo  
O menino é muito magro. É magrissimo  
Julia é muito pobre. É pobrissimo  
A Régua é muito útil. É utilissimo  
O automóvel é muito veloz. É velozissimo

Barça

Dia 25.4.59.

Carta

Laudações

~~Querida mamãe~~

Hoje é o dia de seu aniversário e como <sup>estou</sup> longe de casa, passando minhas férias, resolvi escrever esta cartinha enviando-lhe os meus cumprimentos e as vozes de muita felicidade.

Que Deus ajude a senhora e lhe dê longos anos de vida.

Da filha Maria Elida Lettina

21313

03 71 + 3  
10

0,025

x 100,00

0,02500

15

24 6

30 5

45 5

130,50 | 10

30 13,05

850 x 10/10

13050

130,5 | 10

30 13,0

05 0/1

0/4

6014

2015

42135

351

07

x 684

210

280

320

1.600,00 | 18

00  
00  
00

200,00

+ 0,476

2

25,024

2

101000

130,8

12,5

6540

26 1,6

30

3

32 2,00

100 | 35

20 2

30

Dia 29.4.59.

4203,5

32 12

070

0

Quais as grandes serras que

pertencem a região sul?

Mantiqueira Serra Mar Serrão Geral

A Serra da Mantiqueira fica situada em?

São Paulo

O principal rio da região sul é o Paraná

Qual é o rio que separa o Brasil e o Paraguai?

Paraná

Qual é o rio que forma o Salto das Sete

Quedas Iguaçu

Entre o Estado do Paraná e a Argentina

ficam as Cataratas do Iguaçu

afluenter do Paraná.

Conjugar os verbos terminados em ar

Presente  
Indicativa

Preterito Imperfeito  
do Indicativa

Eu canto  
Tu cantas

Eu cantava

Ele canta  
Vós cantamos

Eles cantam

Preterito Perfeito do  
Indicativo

Preterito Mais  
que perfeito  
do Indicativo

Eu cantei  
Tu cantaste  
Ele cantou  
Vós cantamos

Eu cantara

$\frac{1}{5}$

Escreva sob fração decimal

$\frac{1}{5} = \frac{2}{10} = \frac{4}{20} = \frac{8}{40}$   
 $\frac{1}{4} = \frac{2.5}{10} = \frac{5}{20} = \frac{12.5}{100}$   
 $\frac{1}{6} = \frac{1.66}{10} = \frac{16.6}{100}$   
 $\frac{1}{8} = \frac{1.25}{10} = \frac{12.5}{100}$

Simplifica estas frações

$\frac{12}{24} = \frac{1}{2}$      $\frac{86}{42} = \frac{43}{21}$      $\frac{96}{154} = \frac{48}{77}$      $\frac{35}{48}$      $\frac{6}{18} = \frac{1}{3}$

$5 \frac{3}{8} = \frac{40}{8} + \frac{3}{8} = \frac{43}{8}$   
 $\frac{1}{3} = \frac{1}{3}$   
 $\frac{42}{42} = 1$   
 $\frac{24}{42} = \frac{2}{3}$   
 $\frac{6}{42} = \frac{1}{7}$

$\frac{48}{96} = \frac{1}{2}$      $\frac{7}{35} = \frac{1}{5}$   
 $\frac{154}{77} = 2$      $\frac{7}{13} = \frac{7}{13}$

$\frac{3}{4} + \frac{12}{3} = \frac{20}{12} + \frac{9}{12} = \frac{29}{12}$

$\frac{2}{3} - \frac{2}{5} = \frac{10}{15} - \frac{6}{15} = \frac{4}{15}$

simplifica  $\frac{60}{120}$

$\frac{12}{4} - \frac{11}{3} = \frac{27}{12} - \frac{44}{12} = \frac{-17}{12}$

$\frac{1}{2} = \frac{3}{6}$   
 $\frac{2}{3} = \frac{4}{6}$   
 $\frac{1}{4} = \frac{1.5}{6} = \frac{1.5}{6}$   
 $\frac{1}{2} = \frac{3}{6}$   
 $\frac{1}{2} = \frac{3}{6}$   
 $\frac{1}{2} = \frac{3}{6}$

13. valeu R\$ 105,00. Quanto  
vale  $\frac{1}{2}$  dessa mesma manteiga?  
Solução

105,00 (2)  
35 de 105,00

Qual a maior serra do Rio Grande  
do Sul? Serra do Mar

A terra geral está dividida em todos?  
desta Região.

Qual o principal rio da Região Sul e o  
rio? Paraná

Qual a república que este rio separa  
do nosso país? Paraguai

O Salto das Sete Quedas está situado  
no Rio? Iguaçu

O Rio Uruguai separa o Brasil da?

Entre o Estado do Paraná e a  
Argentina, ficam as Cataratas  
de ~~Iguaçu~~ <sup>Iguaçu</sup> afluentes do  
Paraná.

Quais os outros acidentes dignos  
de nota são?

Com o seu clima temperado e úmido  
O solo desta Região é muito  
Fertil

Quais as produções  
tipos regionais, gaúchos e  
errateiros

Diab-5-59.

Procura, acima, palavras que têm a mesma  
significação das sublinhadas, nas frases  
abaixo, e escreve-as nos parênteses:

Essa carne (fibrosa...) está <sup>fixa</sup> (fixado)  
... aos ossos. Ela possui a propriedade de se  
contrair (encurtar) e distender (alongar) sob  
a influência da vontade.

A veia...orta... leva o sangue do coração para os pulmões. Impulsionado pelas contrações do ventrículo esquerdo o sangue vai durante a pequena circulação, do coração para a artéria... vasos capilares... Depois de passar por todas as partes de novo corpo volta ao coração, nele entrando pela... aurícula... direita.

É durante a capilar circulação, que o sangue distribui em nosso organismo os princípios nutritivos elaborados pela digestão.

Arterias... veias... e coração fazem parte do aparelho circulatório.

O sangue é vermelho escuro e bem visível.

O coração está situado no... entre os... e tem... cavidades, duas e dois...

Dia 8-5-59

Conjugar o verbo partir tempo.

Preterito perfeito do Indicativo

Eu parti                      Ele em parta

Tu partiste

Ele partiu

Nós partimos

Vós partistes

Eles partiram

Análise

Quem

foi  
a

venda

Ponha estas frases:

O professor trouxe nós lindos presentes.

Água, ardente faz mal a saúde.

Quem te emprestou este livro?

Região dentro deste  
Esta região é constituída na maior parte por...



Como se despidem as serras desta Região?

Esta região é irrigada extensos afluentes do Amazonas, e pelos rios

onde fica situado a grande ilha de Bananal?

Qual o rio e a lagôa que formam?

Como é o seu clima?

Quais suas produções?

Um açogueiros tinha 25 vacas 37 bois para matar, matou 26 animais, morreram duas, e lhe roubaram 4. Quantos animais o açogueiro ainda tem?

Salvação	37	34
	+ 25	- 4
	<hr/>	
	62	30
	<hr/>	
	26	
	<hr/>	
	36	
	<hr/>	
	34	

R <sup>animais</sup> 30 ainda tem

## Litoral

- 1 Rio grande.
- 2 Cróico.
- 3 Santa Vitória do Palmar.
- 4 São José da Corte.
- 5 Torres.

## Depressão Central

- 1 Porto Alegre.
- 2 Santa Maria.
- 3 Lachoeira do Sul.
- 4 São Jerônimo.
- 5 Lajequi.

## Illustres

- 1 Itaquí.
- 2 Santo Ângelo.
- 3 São Borja.
- 4 São Francisco de Assis.
- 5 São Luiz de Gonzaga.

- 1 Alegrete.
- 2 Baje.
- 3 D. Pedrito.

- 4 Livramento.
- 5 São Gabriel.
- 6 Uruguiana.

Encosta Interior do Nordeste.

- 1 São Leopoldo.
- 2 Santa Cruz do Sul.
- 3 Santa Antônio da Patrulha.
- 4 Novo Hamburgo.
- 5 Montenegro.
- 6 Encantado.
- 7 Estrela.
- 8 Gramado.

Encosta Superior do Nordeste

- 1 Antônio Prado.
- 2 Bento Gonçalves.
- 3 Laxios do Sul.
- 4 Farroupilha.
- 5 Flores da Cunha.
- 6 Garibaldi.

Serra do Sudeste.

- 1 Casapara do Sul.
- 2 Langueçu.
- 3 Lavras do Sul.
- 4 Pinheiro Machado. Norte
- 5 Piratini.

Encosta do Sudeste

- 1 Telotas
- 2 S. Lorenzo do Sul
- 3 Jaguarião
- 4 Camagão

Alto Uruguai

- 11 Buchim
- 21 Petúlia Vargas
- 31 Trai
- 41 Marcelino Ramos
- 51 Bita Lucena.

Campos de Lima da Serra.

- 11 Bom Jesus
- 21 Lagoa Vermelha
- 31 S. Francisco de Paula
- 41 Vacarias.

## Planalto Médio

- 1) Carajinho.
- 2) Cruz Alta.
- 3) Ijuí.
- 4) Julho de Castilhos. 2
- 5) Passo Fundo
- 6) Tupaciretã ~~Castro~~

## Região Litoral

Rio Grande é uma cidade e também o único nome do porto marítimo do nosso estado.

O Litoral do nosso estado é semeado de lagoas.

Depressão Central  
Porto Alegre está nas margens esquerda do Rio Guaíba.

Porto Alegre é a capital do nosso estado.

Maria Elida Dickel.

# HINO NACIONAL

POEMA DE JOAQUIM OSÓRIO DUQUE ESTRADA

Ouviram do Ipiranga as margens plácidas  
De um povo heróico, o brado retumbante,  
E o sol da Liberdade, em raios fúlgidos,  
Brilhou no céu da Pátria nesse instante.

Se o penhor dessa igualdade  
Conseguimos conquistar com braço forte,  
Em teu seio, ó Liberdade,  
Desafia o nosso peito a própria morte!

Ó Pátria amada,  
Idolatrada  
Salve! Salve!

Brasil, um sonho intenso, um raio vivido  
De amor e de esperança à terra desce,  
Se em teu formoso céu, risonho e límpido,  
A imagem do Cruzeiro resplandece.

Gigante pela própria natureza,  
És belo, és forte, impávido colosso,  
E o teu futuro espelha essa grandeza

Terra adorada,  
Entre outras mil,  
És tu, Brasil,  
Ó Pátria amada!

Dos filhos deste solo és mãe gentil,  
Pátria amada,  
Brasil!

Deitado eternamente em berço esplêndido,  
Ao som do mar e à luz do céu profundo,  
Fulguras, ó Brasil, florão da América,  
Iluminado ao sol do Novo Mundo!

Do que a terra mais garrida,  
Teus risonhos, lindos campos tem mais flores;  
“Nossos bosques teem mais vida,”  
“Nossa vida” no teu seio “mais amores”.

Ó Pátria amada,  
Idolatrada  
Salve! Salve!

Brasil de amor eterno seja símbolo  
O lábaro que ostentas estrelado,  
E diga o verde-louro desta fâmula  
— Paz no futuro e glória no passado.

Mas, se ergues da justiça a clava forte,  
Verás que um filho teu não foge a luta,  
Nem teme, quem te adora, a própria morte.

Terra adorada,  
Entre outras mil,  
És tu, Brasil,  
Ó Pátria amada!

Dos filhos deste solo és mãe gentil,  
Pátria amada,  
Brasil!

# HINO À BANDEIRA

Poesia de OLAVO BILAC

Música de FRANCISCO BRAGA

Salve, lindo pendão da esperança,  
Salve, símbolo augusto da Paz!  
Tua nobre presença à lembrança  
A grandeza da Pátria nos traz.

Côro

Recebe o afeto que se encerra,  
Em nosso peito juvenil,  
Querido símbolo da Terra  
Da amada terra do Brasil!

Em teu seio formoso retratas,  
Este céu de puríssimo azul;  
A verdura sem par destas matas  
E o esplendor do Cruzeiro do Sul...

Contemplando o teu vulto sagrado,  
Compreendemos o nosso dever;  
E o Brasil por seus filhos amado  
Poderoso e feliz ha de ser

Sobre a imensa Nação Brasileira,  
Nos momentos de festa ou de dor,  
Pátria sempre a saagrada bandeira,  
Pavilhão da justiça e do amor.