

**CADERNO N.º 1-E**

*Lina Aparecida Fardes*





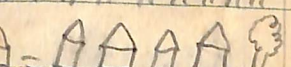
*1.º ano B*

**LIVRARIA SELBACH de Selbach & Cia.**  
**Rua Marechal Floriano n. 10 — PORTO ALEGRE**

Dis 29. Chile

Arithmetica.

Problemas

- De 7 dzs. de ovos - 1 dz. de ovos = 2
  - 2 dezenas de 5 - 1 dezena de 5 = 24
  - 1 1/2 dezena de 7 + 1/2 dezena de 7 = 11
  - Abreva metade de 10 com  = 5
  - " " " " 12 "  = 6
  - " " " " 14 "  = 7
  - " " " " 16 "  = 8
  - " " " " 18 "  = 9
- AAAAA

Linguagem.

- A professora <sup>2</sup>Leitura e copia
- A professora <sup>2</sup>Miguel de - me m - a ma linda <sup>1</sup>bonza.
- O aluno <sup>2</sup>atencioso <sup>1</sup>ganha boas notas. - O <sup>2</sup>caão <sup>1</sup>feliz <sup>2</sup>é estimado <sup>1</sup>pelo <sup>2</sup>bom dono. Nosso <sup>2</sup>lindo <sup>1</sup>paradiso <sup>2</sup>foi <sup>1</sup>feito <sup>2</sup>pelos <sup>1</sup>alunos <sup>2</sup>trabalhadores <sup>1</sup>

## Exercício

Complete as frases

Mamãe bonita.

Saindo cavalo.

Laureado lindo.

Étita bonita.

Bonita rosa

Querido Papai.

## Ciências sociais.

Marque a parte certa.

- Que faz um bom aluno;  
no fila? cuida de si ou com  
pura os colegas. - Que faz  
um bom menino na igreja?  
passa primeiro ou dá lugar  
aos outros. - atmesu devemos  
nos servir frimlro  
ou esterrar que nos servom  
Linguagem Tema Dia 24

## Tema

Malagrafia

Na fila todos estão quietos.

1 Na fila todos estão quietos.

2 Na fila todos estão quietos.

3 Na fila todos estão quietos.

Mora nota



Fila está

Dia 1º

a ceta

Aritmética

Problema

- Mamãe tinha 10 limas; repartiu-as entre mim e meu irmão quantas recebeu cada um? R. 5.

- Lima ganhou 1 laranja; que parte sobrou da inteira? R.  $\frac{2}{3}$ .

Calcular


- Qual é a metade de 2? = 1



" " " " " " 4? = 2


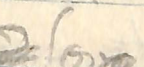


" " " " " " 6? = 3





" " " " " 8? = 4  
 " " " " " 10? = 5  
 " " " " " 12? = 6  
 " " " " " 14? = 7

Linguagem  
 Composição

- O  (laranja) é uma fruta  
 boa para se comer.

- O  (ovato) roeu o  (rosto).

- A  (gamba) pôs o  (ovo)  
 no  (sapato) de  rosa.

A  menina ganhou um   
 - O  (gato) usou  (vestido)  
 (ovato,

Exercício

Organizar as sílabas

Laranja = la - ran - ja, 3.

ovato = ra - to 2

chapéu = cha - péu 3

galinha = ga - li - nha 3

ovo = ov - o 3

sapato = sa - pa - to 3

rosa = ro - sa 2

vestido = ve - st - ido 3

gato = ga - to 2

Propia

Dias dos meses

Trinta dias têm setembro.

Abril, junho e novembro;

fevereiro vinte e oito têm;

se for trissexto mais um dia de mais.



E os outros, que sete são

Trinta e um todos terão.

- Esser sete quais são?

Dia 4.

Aritmética

- De a metade de  $4 = 2$
- " " " "  $10 = 5$
- " " " "  $8 = 4$
- " " " "  $6 = 3$
- " " " "  $uma dz = \frac{1}{10}$
- " " " "  $duas dezenas = \frac{2}{10}$
- $10$  - "  $um n^o$  par de 
- " " "  $impar$  

Exercícios

- $2 + 4 - 1 = 5$
  - $3 - 1 + 2 + 4 = 8$
  - $2 + 2 + 3 - 1 = 6$
  - $5 + 5 - 2 + 3 = 11$
  - $1 + 4 + 3 - 2 = 6$
  - $3 + 3 - 4 + 7 = 9$
- |   |   |   |   |    |      |
|---|---|---|---|----|------|
| 2 | 3 | 5 | = | 10 | 9876 |
| 6 | 8 | 4 | = | 18 | 1234 |
| 5 | 1 | 6 | = | 12 | 8142 |

Problemas

- Luiz ganhou 4 laranja 3 laranjas e 5 limas e 2 peras; quantas frutas Luiz tem? R. 14.  
 $4 + 3 + 5 + 2 = 14$

- Lúcia tinha 10 limas repartiu-as entre si e Dalila; quantas tocou a cada uma? R. 5.

Linguagem

Leitura e cópia.

- A sala limpa prova que os alunos são assados.
- A casa pintada e mais bonita.
- A menina bondosa ajuda a irmã.
- O aluno cuidador conserva limpo o caderno.

## Ditados

- O aluno delicado.
- O bondoso menino.
- O cão fiel.
- O cavalo bravo.
- O cadeiro limpo.
- Sala cara.
- O menino cuidadoso.

## Higiene

higiene corporais.

Prezque a parte certa:

- Devemos lavar os dentes

3 vezes ao dia,

1 vez por semana.

- Devemos tomar banho

1 vez por semana

nunca 1 vez por mês.

Nosso corpo deve estar

seja lavado a ferro

## Tema

### Exercício.

Marque: as pessoas as casas  
e os animais (1) e as quali-  
dades (2).

Sapato bonito	36	23
Vestido novo	- 24	- 6
	<u>24</u>	<u>23</u>
Suave arredada	12	61
Cão fiel	2	- 21
	<u>20</u>	<u>40</u>
Cavalo corado	32	4
Bondoso menino	+ 753	8
Higiene tífica.	1789	+ 3
	9748	2

- 3216 Dia 5. 1


6532 23

$$2 + 7 - 3 + 4 = 10 \quad 2 + 2 - 1 + 6 = 9$$

$$6 + 5 - 2 + 1 = 10 \quad 7 + 6 - 3 + 2 = 12$$

$$4 + 3 + 2 - 1 = 8$$

$$6 + 8 - 9 - 2 = 3$$



Simulação  
Exercício

Se a frase estiver certa ri-se ou a palavra: certo;  
se estiver errada, risque a palavra: errado.

- 1) (gato) não come carne certo-errado
- 2) (gato) gosta de (rato) certo-errado
- 3) (rato) é animal certo-errado
- 4) (gato) e (rato) gostam de queijo certo-errado
- 5) ( ) não toma leite certo-errado
- 6) ( ) é roedor. certo-errado

Aldo, Elio, Ernesto, Davio  
Desenha o gato ou o rato de acordo com a frase:  
- O gato gosta de carne.  
- O rato gosta de roer.

Lições básicas


Marque o nº certo:  
- As estações do ano são: 7, 4, 2.  
2. Marque a frase:

- As estações do ano são primavera, verão, outono e inverno.
- Marque a palavra certa:  
- O verão é quente - frio - temperado.  
- O inverno é quente, frio - temperado.  
- O outono e a primavera são as estações quentes, frias temperadas.

# Tema

## Realização

- Respirar no chão é hábito muito feio.
- 1 Respirar no chão é hábito muito feio
  - 2 Respirar no chão é hábito muito feio
  - 3 Respirar no chão é hábito muito feio



$247$        $8$        $324967$        $43$   
 $+ 2125$        $+7$        $-867$        $-321$        $32$   
 $459$        $3$        $1189$        $646$        $73$   
 $967$        $27$                       $748$   
 $-321$        $2+4+6-5=7$        $8$   
 $7$   
 $7+3-2+4=12$        $27$        $78$   
 $27$        $72$        $73$        $-3$        $-9$   
 $-4$        $+3$        $+6$        $-149$        $9$   
 $78$        $15$        $7$        $-7$   
 $7$

$236$        $37$        $29$        $45$        $9$        $9867$   
 $+953$        $-12$        $-13$        $-75$        $8$        $-1354$   
 $7789$        $25$        $76$        $30$        $+7$        $8513$   
 $95$        $2+4+6-5=7$        $3$   
 $+72$        $3+3-3+3=6$        $2+4+5-6=5$   
 $167$   
 $72$        $15$        $17$        $79$   
 $-8$        $-9$        $-7$        $+7$   
 $4$        $6$        $70$        $26$

## Linguagem

### Ditado

- Lairida ganhou da tia uma boneca.  
 - Taludo tem umas bolinhas.  
 - José fez a lição.  
 - A delara tem um gato e um cão.  
 - A vaca é um animal útil.  
 - Leite da leite, carne é couro  
 - O cão, o gato, o cavalo e o boi são animais domésticos.



246	965	53
+823	-432	-72
<u>2+7-3=6</u>	533	41
3+6-2=7	87	21
7+4+3-7-1	-13	-70
73	22	72
-9	+9	+8
		+6
		+70
31	20	49
		25

Tema:

- Para para numerais os n<sup>os</sup>: 3, 4, 5, 6.
  - Faça os n<sup>os</sup> de 3 em 3 de 11 a 29.
- |                      |     |    |   |    |
|----------------------|-----|----|---|----|
| 11-14-17-20-23-26-29 | III | IV | V | VI |
|                      | 3   | 4  | 5 | 6  |
- Numere a 2<sup>a</sup> coluna pela 7<sup>a</sup>:
- |                          |
|--------------------------|
| 1) mamífero (3) sardinha |
| 2) ave (2) parva         |
| 3) peixe (1) camarão     |
| (4) gato                 |
| (1) bol                  |

(3) tainha

12 latria

para para | ovo, vara, maré, iris, maré

- 1) Veja uma pera pintada.
- 2) A arara tem bonitas penas.
- 3) Uma laranja madura.
- 4) Elvira é uma menina bondosa.
- 5) Aspirar o aroma do jasmim.
- 6) Uma mala de arame.
- 7) O vento vira o leite.
- 8) A vovó é bondosa.
- 9) Deixar farelo aos pintos, tremé.

100

ditado et do

Em cima uma laranja madura.  
As penas do peru.  
A vovó é muito boa.  
O vento levanta o pó.  
A bola de Alberto esta rota

O arco iris tem bonitas cores  
e ela tem bom apetite

O soldado é alto


Esta menina é aplicada

Dia 13.

Aritmética

- Tare para Romano: os n<sup>os</sup>: 1, 2, 3, 4. I-III-IV-V.

Classe numeração 5 em 5 de 15 a 60

- Tare 1  marcando 2 horas e 15 minutos:

75-20-25-30-35-40-45-50-55

60-65

Problema  
Pag 19-n<sup>o</sup> 1



7 e 2.

D. Luis foi visitar sua  
madrinha

Lehe gou lá ós 2 horas e saiu  
às 5.

Quanto tempo ficou Luis com  
a madrinha

$$5 - 2 = 3$$

2) Tereza recebeu de vó 10 pe-  
ras. Deu as maninho  
2 e, a criada, 1; comeu 1 e as ou-  
tras ofereceu à mamãe.

Quantas peras recebeu mamãe?

Linguagem

Marque as pessoas (1), as coisas

(2), os animais (3)

e as qualidades (4)

- cabelo de minha querida madri-  
nha uns 4 1

- Sapatos novos 4

- Mimi brincalhão tem uma  
bonita bola 4 2

4

- José é cuidadoso tem o cabelo limpo. 4  
 - meu bondeiro papai tem um chapéu novo.  
 - Minha estimada mamãe deu-me uma fita<sup>4</sup> muito linda 4

$$2 + 3 + 4 - 7 = 8 \quad 27 \quad 79$$

$$3 + 4 + 2 + 5 = 14 + 9 \quad + 8$$

$$2 + 2 - 7 + 4 = 7 \quad 36 \quad 20$$

$$2396 \quad 2 + 3 + 2 \quad 3 + 1 = 11$$

$$1354 \quad 23 \quad 723 \quad 9836$$

$$1042 \quad -13 \quad +321 \quad -1914$$

73	953	8622
1397		

Linguagem.

Exatidão

Os melhores estudantes são atentos na aula.

Sua sala de estudos está sempre

limpa. 7  
 Eles são bons alunos e são também bonzinhos.  
 Seus pais e professores gostam dele por isso.

Exercício.

Separe as sílabas de:

memória = me - ri - no, 3.

estudos = es - tu - di - o - so, 3.

atento = at - en - to, 3.

sala = sa - la, 2.

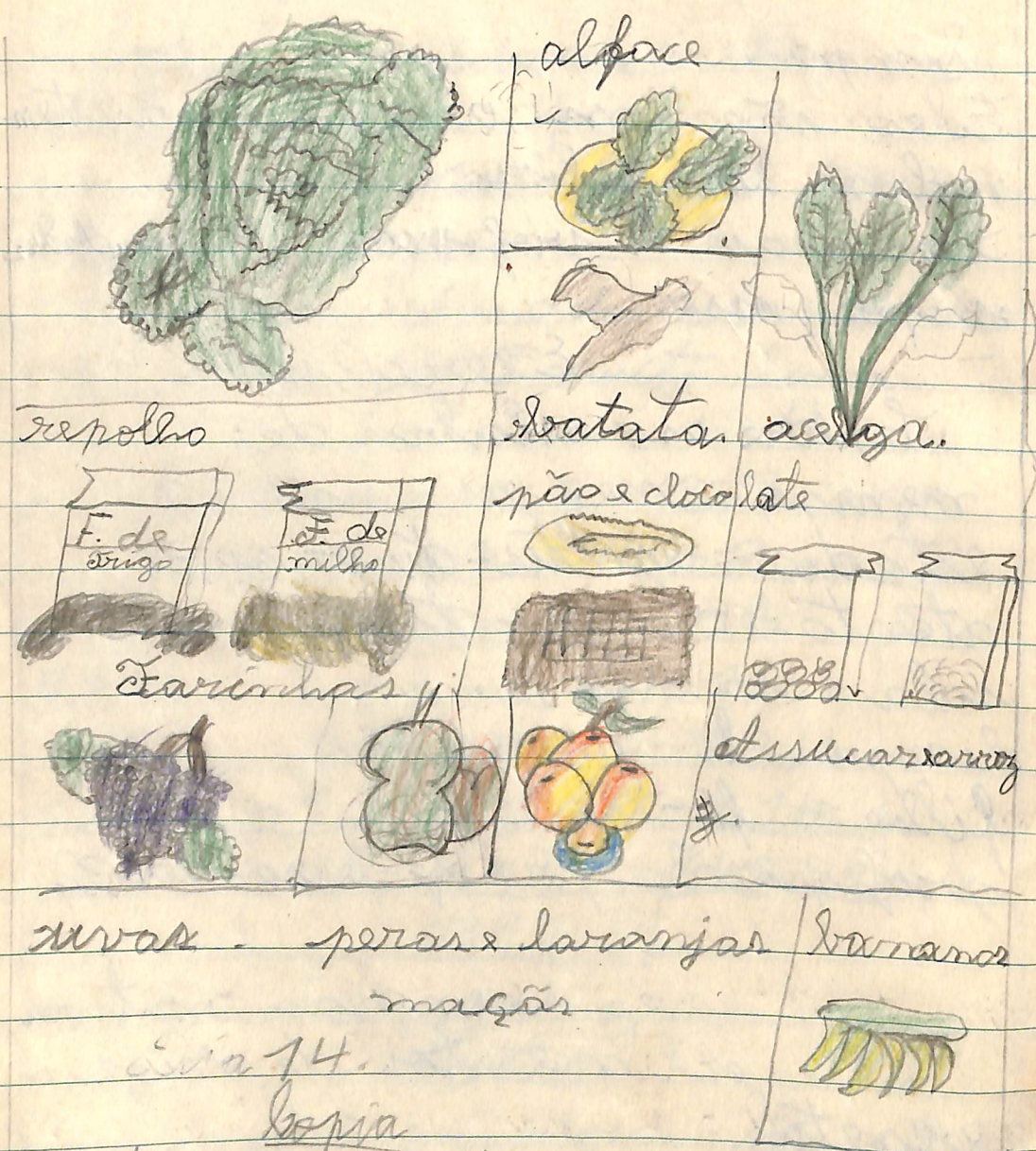
limpa = li - m - pa, 3.

filha = fi - lha, 2.

professora = pro - fe - ssa - ra, 3.

Dietsas naturais  
 e alimentos de origem

vegetal



alface  
 repolho  
 batata doce  
 pão e chocolate  
 F. de trigo F. de milho  
 Farinhas  
 uvas  
 peras e laranjas  
 maçãs  
 banana  
 leite  
 açúcar

1) etc mora tem bom sabor.

- 2) O nenê está enfermo.
- 3) Uvas verdes fazem mal.
- 4) Um muro de tijolos.
- 5) - Onde está Roberto?
- 6) Roberto está no jardim.
- 7) As nuvens taparam o sol.
- 8) Levante o toldo janela.
- 9) O jantar está servido.
- 10) Trámo para a mesa.
- 11) Um lobo voraz.
- 12) Alberto é um menino amavel.
- 13) O vovô tem a rapé.
- 14) Seda tem um vertido verde.

A, B, D, E, T, I, L, M, N, O, P,  
 R, S, T, U, V, Z.

$$\begin{array}{r}
 793 \quad 9476 \quad -77 \quad 12 \quad -13 \\
 421 \quad -7342 \quad +9 \quad -8 \quad +7 \\
 935 \quad 8734 \quad 20 \quad 4 \quad 30 \\
 2076 \quad 2+7-3+4=10 \quad 8+1+4-3=8 \\
 12-3=9 \quad 5+3-2=6 \quad 6+2-1=7 \quad 5+4-3=6
 \end{array}$$

## Lições naturais.

- Busque o nome do animais domesticos: cavalo - tigre - urso - vaca - carneiro.

- <sup>2</sup> Numere a 2ª coluna de acordo com a 1ª:

- |          |              |
|----------|--------------|
| 1) lá    | (4) galinha  |
| 2) leite | (1) cão      |
| 3) cêra  | (2) vaca     |
| 4) ovos  | (1) carneiro |
|          | (2) cabra    |
|          | (3) abelha   |

- Busque os nomes dos animais que fornecem alimentos ao homem:

porco - carneiro - leão - boi

- <sup>1</sup> Casa 1 + adiante dos nomes de animais que servem para a pular velados

gato (1)

porco (1)

urso (1)

boi (+)

cavalo (+)

## Qualificação

1. A vaca é um

2. A vaca é, um

3. A vaca é um

4. A vaca é um

animal útil

1 animal útil

2 animal útil

3 animal útil

Dia 19.

Aritmética

de Rutubro

Problemas - pa

2 19

3) Se Carlos tem 2 penas e Luis tem 5 penas mais do que Carlos.

Quantas penas tem Luis? R. 7.

Quantas penas tem os 2 juntos? R. 9.

4) Era uma semana Mariazinha faltou à aula 4ª feira, 5ª feira e 6ª feira. Quantos dias

na Mariazinha compareceu à aula? R. 3.

$6 - 3 = 3$      $2 + 7 = 9$

Num telhado estavam pou-  
sadas as pombinhas. <sup>3</sup>Coaram <sup>1</sup>  
quantas ficaram? R. —

## Linguagem.

Marque as pessoas (1) as coisas  
(2) e os animais (3) nesta copia:

- et lura é bonita.
- V <sup>2</sup>menino que estuda aprende.
- et bondosa menina deu um  
pedaço de bolo ao <sup>1</sup>nenê.
- V <sup>3</sup>carvalho e o <sup>3</sup>gato são úteis.

Marque as qualidades.  
s: - V <sup>1</sup>cão fiel amigo da casa

- V bom aluno gostoso boas notas.
- et aluna limpa é mais bonita  
Muito simpatia e estudoso.

